


SIMULADO

2º ANO

BNCC



Bem vindos ao Blog Estrelinha Pedagógica.

Leia abaixo o que pode e o que não pode.

Ficarei feliz se esta atividade fizer parte do seu planejamento;

Bom trabalho!

[Este material foi elaborado pelo o blog estrelinhapedagogica.com.br](http://blog.estrelinhapedagogica.com.br)

As atividades deste blog são protegidas pela lei 9.610/98, dos direitos autorais.

Esse conteúdo é exclusivo para os professores apoio pedagógico em sala, reforço


escolar e para os pais que auxiliem na aprendizagem dos seus filhos. Proibido a

circulação em Whats App, Instagram, Drive ou qualquer rede social. PROIBIDO

COLOCAR NO EM PDF NO WHAT App Sem Link. Marque o blog pois ficarei feliz.


Não autorizo venda desse conteúdo. Instagram: @professoravaleriadias

Threads: Valéria Dias Atividades Pedagógicas

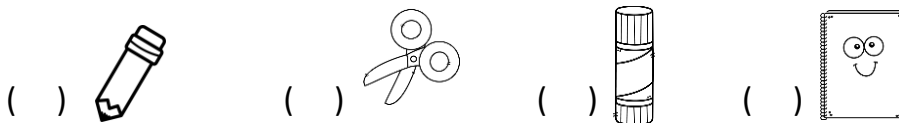


## ATIVIDADES:






GABRIELA GOSTA DE COLECIONAR DIVERSAS OBJETOS. SUA COLEÇÃO JÁ TEM LÁPIS, TESOURAS, COLA BASTÃO E CADERNOS.



1) MARQUE A ALTERNATIVA QUE INDICA A COLEÇÃO DE GABRIELA QUE TEM MAIOR QUANTIDADE DE OBJETOS:



2) OS ESTUDANTES DA ESCOLA ALEGRIA DA SABEDORIA REALIZARAM UMA ELEIÇÃO PARA ESCOLHER O MASCOTE DA TURMA. VEJA O RESULTADO NHA TABELA ABAIXO:

				
5	3	5	2	9

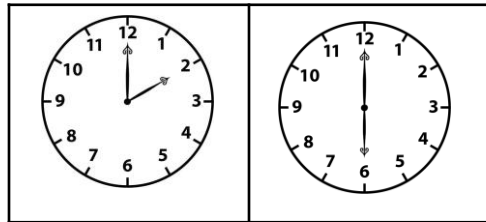
MARQUE COM UM X A ALTERNATIVA QUE MOSTRA QUAL SERÁ O ANIMAL MASCOTE DA TURMA DA ESCOLA ALEGRIA DA SABEDORIA.

( ) COELHO ( ) CACHORRO ( ) GATO ( ) COELHO ( ) ABELHA

---

3) O JOGO DE DOMINÓ DA ESCOLA DE SARAH FOI MARCADA PARA INICIAR AS 14 HORAS E FOI ENCERRADA AS 18 HORAS:

MARQUE COM UM X A RESPOSTA QUE MOSTRA O TEMPO DE DURAÇÃO DO JOGO DE DOMINÓ.




( ) 3 HORAS ( ) 4 HORAS ( ) 5 HORAS ( ) 6 HORAS

---

4) CARLA BEATRIZ DESENHOU UM PRESENTE:

MARQUE COM UM X A ALTERNATIVA QUE MOSTRA O NOME DA FIGURA QUE ELA DESENHOU.



( ) QUADRADO ( ) TRIÂNGULO  
( ) CÍRCULO ( ) RETANGULO

---


5) VEJA AS CASAS ABAIXO:



MARQUE A ALTERNATIVA DO NÚMERO QUE COMPLETA A SEQUENCIA:

( ) 10 ( ) 11 ( ) 14 ( ) 12

6) OBSERVE A IMAGEM ABAIXO:




MARQUE COM UM X O OBJETO QUE ESTÁ A ESQUERDA DO PINGUIM.

( ) MAÇÃ                      ( ) LÁPIS                      ( ) ESTOJO                      ( ) BORRACHA


7) NO DIA 21 DE SETEMBRO COMEMORA-SE O DIA DA ÁRVORE.

SETEMBRO - 2023						
DOM	SEG	TER	QUA	QUI	SEX	SAB
					1	2
3	4	5	6	7	8	9
10	11	12	13	14	15	16
17	18	19	20	21	22	23
24	25	26	27	28	29	30







MARQUE COM UM X O DIA DA SEMANA QUE SERÁ COMEMORADO O DIA DA ÁRVORE.

( ) SEGUNDA-FEIRA                      ( ) QUARTA-FEIRA  
( ) SÁBADO                                      ( ) QUINTA-FEIRA







8) AMANDA FOI A CASA DE EFEITES DE FESTA COM SUA MÃE PARA COMPRAR PRODUTOS PARA A FESTA DO PIJAMA. GASTARAM AO TODO 85 REAIS. MARQUE A ALTERNATIVA QUE REPRESENTA O VALOR DAS COMPRAS DE AMANDA.


A	
B	
C	
D	

9) IVONE TRABALHA EM UMA ESCOLA QUE FICA NO FINAL DA RUA ONDE ELA MORA. O NÚMERO DA ESCOLA É **476**. MARQUE COM UM X O VALOR RELATIVO DO NÚMERO **SETE**.

( ) 7                      ( ) 70                      ( ) 700                      ( ) 7000


10) OBSERVE O BONECO QUE PAULA DESENHOU COM 10 FIGURAS PLANAS: MARQUE A ALTERNATIVA QUE TEM A MESMA FIGURA EM DESTAQUE NO CORPO DO BONECO.

- A) 
- B) 
- C) 
- D) 



11) LARISSA FOI AO ZOOLOGICO COM SEUS PAIS E DESCOBRIU QUE CADA ANIMAL TEM UM PESO. ELA ANOTOU EM SEU DIÁRIO O QUANTO PESAVA CADA ANIMAL. OBSERVE A ANOTAÇÃO DA LARISSA.

ANIMAL	PESO
CAMELO	500 KG
ELEFANTE	6500 KG
LEÃO	500 KG
MACACO	18 KG
GIRAFA	500 KG
ZEBRA	260 KG



A) MARQUE A ALTERNATIVA EM QUE APARECE O ANIMAL QUE TEM O PESO MAIOR

( ) CAMELO      ( ) LEÃO      ( ) ELEFANTE      ( ) ZEBRA

B) MARQUE A ALTERNATIVA EM QUE APARECE O ANIMAL QUE TEM O PESO MENOR.

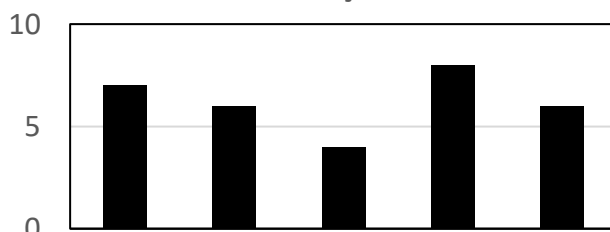
( ) MACACO      ( ) CAMELO      ( ) ELEFANTE      ( ) GIRAFA

12) OBSERVE O GRAFICO ABAIXO:

MARIANA CONTOU PARA AS AMIGUINHAS O QUE ELA COMEU NA SUA ESCOLA, EM COMEMORAÇÃO DO DIA DAS CRIANÇAS.

MARQUE A ALTERNATIVA EM QUE APARECE A GULOSEIMA QUE ELA MAIS COMEU

GULOSEIMAS DA SEMANA DA CRIANÇA



( ) BALAS      ( ) MARIA- MOLE

( ) PAÇOQUINHA      ( ) SORVETES

■ BALAS      ■ BOMBONS  
 ■ MARIA-MOLE      ■ PAÇOQUINHA  
 ■ SORVETES

RESPOSTAS:

1)



2)



3) ( ) 4 HORAS

4) ( ) RETANGULO

5) LÁPIS

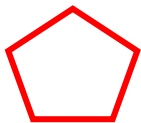
6) ( ) 12

7)QUINTA- FEIRA

8)C)

9) 70

10)



11)A) ELEANTE

B) MACACO

12) PAÇOQUINHA