

# ATIVIDADES

## 1º OU 2º ANO



Bem vindos ao Blog Estrelinha Pedagógica.

Leia abaixo o que pode e o que não pode.

Ficarei feliz se esta atividade fizer parte do seu planejamento;

Bom trabalho!

[Este material foi elaborado pelo o blog estrelinhapedagogica.com.br](http://estrelinhapedagogica.com.br)

As atividades deste blog são protegidas pela lei 9.610/98, dos direitos autorais.

Esse conteúdo é exclusivo para os professores apoio pedagógico em sala, reforço


escolar e para os pais que auxiliem na aprendizagem dos seus filhos. Proibido a

circulação em Whats App, Instagram, Drive ou qualquer rede social. PROIBIDO

COLOCAR NO EM PDF NO WHAT App Sem Link. Marque o blog pois ficarei feliz.

Não autorizo venda desse conteúdo. Instagram: @professoravaleriadias


Threads: Valéria Dias Atividades Pedagógicas



## ATIVIDADES


1) EM UM JOGO DO BINGO, A PROFESSORA SORTEOU OS SEGUINTE NÚMEROS:

OITENTA OITO	TRINTA E SETE	VINTE E QUATRO
CINQUENTA	SESENTA E DOIS	CATORZE
NOVENTA E CINCO	DEZOITO	QUARENTA NOVE



a) ANA BEATRIZ E JULIA ESTÃO COM AS CARTELAS A SEGUIR. OBSERVE OS NÚMEROS DE CADA CARTELA E DESCUBRA QUEM GANHOU O JOGO.

BINGO		
49	62	95
18	50	88
37	24	14
NOME: ANA BEATRIZ		



BINGO		
24	33	55
36	50	62
18	49	88
NOME: JULIA		




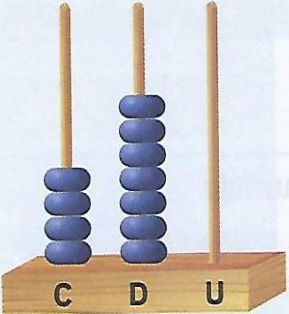
B) QUEM GANHOU O JOGO? \_\_\_\_\_

C) QUAIS OS NÚMEROS QUE FALTARAM PREENCHER NA OUTRA CARTELA? \_\_\_\_\_

\_\_\_\_\_


2) A PROFESSORA DO 2º ANO PROPÔS AOS ESTUDANTES UMA ATIVIDADE EM GRUPO. CADA GRUPO DEVERIA FORMAR O MESMO NÚMERO, MAS USANDO MATERIAIS DIFERENTES.

ELA ESCREVEU NO QUADRO O SEGUINTE NÚMERO: 407

<p><b>Grupo 1</b></p> 	<p><b>Grupo 2</b> <small>IMAGEM RETIRADA DE UM LIVRO</small></p>  <p><small>Ilustrações: DAE</small></p>
<p><b>Grupo 3</b></p>  <p><small>Fotos: Banco Central do Brasil</small></p>	<p><b>Grupo 4</b></p>  <p><small>Eduardo Westin/Estúdio Epox</small></p>

TODOS OS GRUPOS REPRESENTARAM CORRETAMENTE O NÚMERO QUE A PROFESSORA ESCREVEU NO QUADRO? CASO ALGUM GRUPO TENHA COMETIDO UM ERRO AO REPRESENTAR O NÚMERO COM SEU MATERIAL, JUSTIFIQUE O ERRO E REGISTRE A RESPOSTA CERTA.

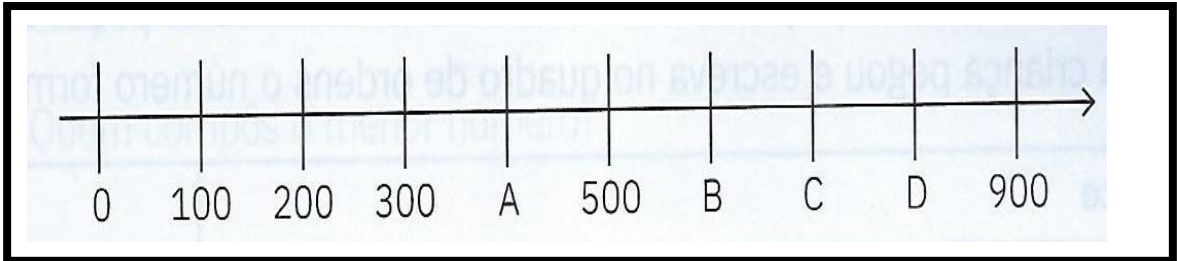
IMAGEM RETIRADA DE UM LIVRO



3) RESPONDA:

QUAIS NÚMEROS CORRESPONDEM AS INDICAÇÕES DAS LETRAS A, B, C, E D NESTA RETA NUMÉRICA?

IMAGEM RETIRADA DE UM LIVRO



A \_\_\_\_\_ B \_\_\_\_\_ C \_\_\_\_\_ D \_\_\_\_\_

4) ATIVIDADES DE MEDIDA:

A) QUAL É O COMPRIMENTO DA BORRACHA ABAIXO?

IMAGEM RETIRADA DE UM LIVRO





IMAGEM RETIRADA DE UM LIVRO


RESPOSTA: \_\_\_\_\_

B) QUANTOS MILÍMETROS TEM A PONTA DO LÁPIS?

IMAGEM RETIRADA DE UM LIVRO



RESPOSTA: \_\_\_\_\_



Simone Capozzi/  
Shutterstock.com

## ATIVIDADES DE GRÁFICO:

A PROFESSORA DO 2º ANO RAQUEL FEZ UMA PESQUISA COM OS ESTUDANTES PARA DESCOBRIR QUAL É O DESENHO FAVORITO DELES. OBSERVE O GRÁFICO QUE MOSTRA O RESULTADO DESSA PESQUISA.

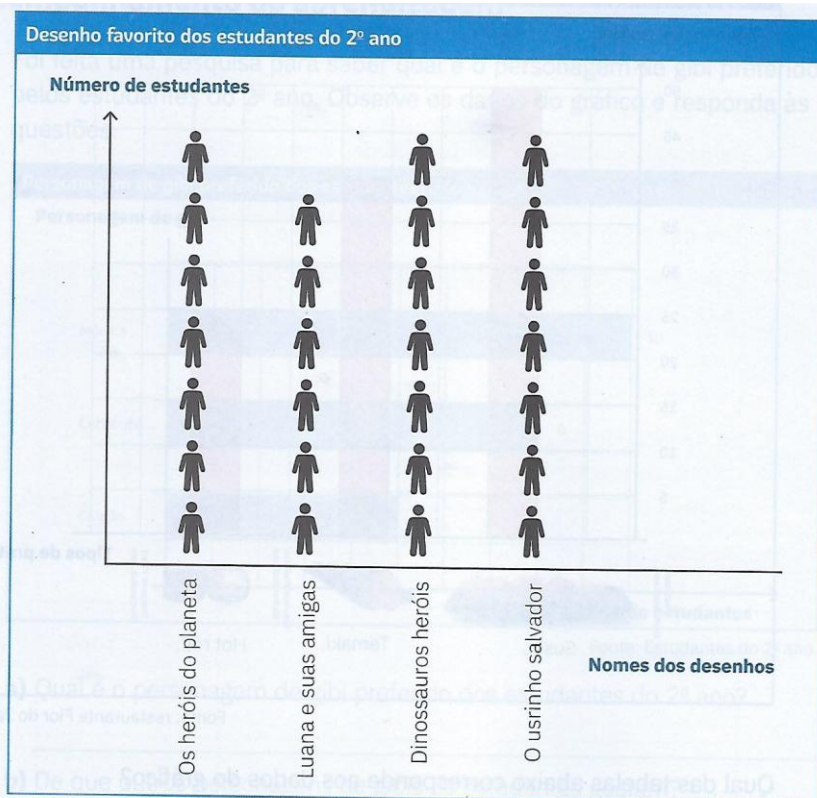


IMAGEM RETIRADA DE UM LIVRO

Fonte: estudantes do 2º ano.



## RESPONDA:

A) QUANTOS TIPOS DE DESENHOS FORAM ESCOLHIDOS PELOS ESTUDANTES DO 2º ANO? \_\_\_\_\_

B) HOUVE APENAS UM DESENHO MAIS VOTADO PELOS ESTUDANTES? JUSTIFIQUE.

\_\_\_\_\_

C) QUAL DESENHO RECEBEU MENOS VOTOS? \_\_\_\_\_

\_\_\_\_\_

D) QUANTOS VOTOS RECEBEU CADA UM DOS 3 DESENHOS FAVORITOS? \_\_\_\_\_

\_\_\_\_\_

E) QUANTOS VOTOS RECEBEU LUANA E SUAS AMIGAS? \_\_\_\_\_

Respostas:

- 1) b) ANA BEATRIZ  
C) OS NÚMEROS SÃO 95, 37 E 14
- 

- 2) GRUPO 1: CERTO USOU CARTAS  
GRUPO 2 ERRADO TEM 9 UNIDADES. SERIA 7 UNIDADES.  
GRUPO 3 CERTO  
GRUPO 4: ERRADO CENTENAS CERTO E DEZENAS ERRADO . O CERTO SERIA 7 UNIDADES. ESSE NÚMERO NÃO TEM DEZENAS.
- 

- 3) A = 400    B) = 600    C) 700    D) 800
- 

- 4) A) O COMPRIMENTO DA BORRACHA É DE 5 CM.  
B) A PONTA DO LÁPIS É DE 10MM
- 

- 5) A) 4 TIPOS DE DESENHOS.  
B) NÃO. HOUE 3 DESENHOS MAIS FAVORITO.  
C) O DESENHO FOI LUANA E SUAS AMIGAS  
D) OS 3 DESENHOS RECEBEU 7 VOTOS CADA UM.  
E) LUANA E SUAS AMIGAS RECEBEU 6 VOTOS.