

ATIVIDADE DE
MATEMÁTICA 1º ANO
PARTE 2



Bem vindos ao Blog Estrelinha Pedagógica.

Leia abaixo o que pode e o que não pode.

Ficarei feliz se esta atividade fizer parte do seu planejamento;

Bom trabalho!

[Este material foi elaborado pelo o blog estrelinhapedagogica.com.br](http://estrelinhapedagogica.com.br)

As atividades deste blog são protegidas pela lei 9.610/98, dos direitos autorais.

Esse conteúdo é exclusivo para os professores apoio pedagógico em sala, reforço escolar e para os pais que auxiliem na aprendizagem dos seus filhos. Proibido a circulação em Whats App, Instagram, Drive ou qualquer rede social.


PROIBIDO COLOCAR NO EM PDF NO WHAT

App Sem Link. Marque o blog pois ficarei feliz.

Não autorizo venda desse conteúdo.

Threads: Valéria Dias Atividades Pedagógicas

Instagram: @professoravaleriadias



1) COMPLETE A SEQUENCIA ESCRIVENDO OS NÚMEROS:

0	0								
---	---	--	--	--	--	--	--	--	--

1	1	1							
---	---	---	--	--	--	--	--	--	--

2	2	2							
---	---	---	--	--	--	--	--	--	--

3	3	3							
---	---	---	--	--	--	--	--	--	--

4	4								
---	---	--	--	--	--	--	--	--	--

5	5								
---	---	--	--	--	--	--	--	--	--

6	6								
---	---	--	--	--	--	--	--	--	--

7	7								
---	---	--	--	--	--	--	--	--	--

8	8								
---	---	--	--	--	--	--	--	--	--

9	9								
---	---	--	--	--	--	--	--	--	--



2)VAMOS TREINAR:

0 0 0 0 0 0 0 0

1 1 1 1 1 1 1 1

2 2 2 2 2 2 2 2

3 3 3 3 3 3 3 3

4 4 4 4 4 4 4 4

5 5 5 5 5 5 5 5


6 6 6 6 6 6 6 6

7 7 7 7 7 7 7 7

8 8 8 8 8 8 8 8

9 9 9 9 9 9 9 9


3) OBSERVE OS NÚMEROS ABAIXO:




A) CONTORNE O NÚMERO QUE REPRESENTA O NÚMERO QUATRO:

B) FAÇA UM X NO NÚMERO SETE:


4) ESCREVA OS NÚMEROS QUE FALTAM NOS CARRINHOS:




5) OBSERVE OS NÚMEROS ABAIXO E PINTE AQUELE QUE REPRESENTA SUA IDADE:




6) AGORA, DESENHE NO BOLO A MESMA QUANTIDADE DE VELAS DE SUA IDADE.




7) PINTE O NUMERAL CORRESPONDENTE AOS ELEMENTOS DE CADA CONJUNTO.




- 5
- 2
- 8
- 6




- 2
- 8
- 9
- 3



- 4
- 6
- 2
- 3




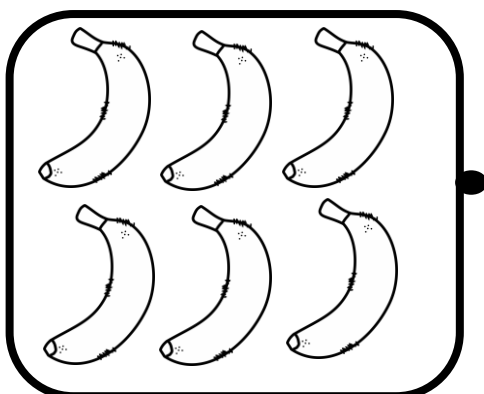




- 6
- 5
- 7
- 8




- 7
- 8
- 5
- 6


8) LIGUE OS CONJUNTOS QUE POSSUEM A MESMA QUANTIDADE DE ELEMENTOS.







9) FAÇA NO QUADRO ABAIXO 9 BOLINHAS VERMELHAS:




10) PINTE OS QUADRADOS, CIRCULE OS TRIÂNGULOS E FAÇA UM X NOS CÍRCULOS:



11) COMPLETE OS CONJUNTOS DESENHANDO OS OBJETOS QUE FALTAM DE ACORDO COM O NÚMERO PEDIDO:

	6
	8
	5
	4

12) CONTE QUANTAS LARANJAS HÁ EM CADA ÁRVORE.



13) AJUDE O SENHOR ARTHUR CHEGAR À IGREJA. PINTE O CAMINHO QUE TEM A SEQUENCIA CORRETA DE NÚMEROS PARA MOSTRAR-LHE POR ONDE IR.

