

Atividades Diversas Português e Matemática



Bem vindos ao Blog Estrelinha Pedagógica.
Leia abaixo o que pode e o que não pode.
Ficarei feliz se esta atividade fizer parte do seu planejamento;
Bom trabalho!



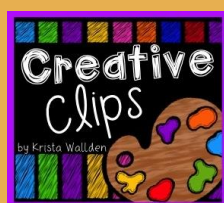
Este material foi elaborado pelo o blog estrelinhapedagogica.com.br

As atividades deste blog são protegidas pela lei 9.610/98, dos direitos autorais.
Esse conteúdo é exclusivo para os professores apoio pedagógico em sala, reforço escolar e para os pais que auxiliem na aprendizagem dos seus filhos. Proibido a circulação em Whats App, Instagram, Drive ou qualquer rede social. **PROIBIDO COLOCAR NO EM PDF NO WHAT App Sem Link.** Marque o blog pois ficarei feliz.

Não autorizo venda desse conteúdo.

Threads: Valéria Dias Atividades Pedagógicas

Instagram: @professoravaleriadias



A tabela abaixo indica a quantidade de visitantes que um museu de Artes recebeu no primeiro semestre de 2019.

Visitantes do museu						
Mês	Janeiro	Fevereiro	Março	Abril	Maio	Junho
Quantidade	4 500	3 500	2 750	4 250	3 250	4 750

Fonte: Museu de artes.

Imagens de um livro

a) Em que mês houve menor número de visitantes no museu? _____


b) Qual mês teve maior o número de visitantes? _____

c) No total, quantos visitantes o museu recebeu nos meses de fevereiro e junho? _____

d) Calcule a diferença entre os meses de janeiro e maio. _____

e) Escreva como se lê os números de visitantes apresentados na tabela acima. _____

Beatriz fez uma pesquisa para descobrir o tipo de livro preferido dos moradores do seu bairro. Observe o gráfico abaixo e responda às questões.



Responda:

a) Quantas pessoas cada livro representa? _____

b) Quantos votos recebeu cada livro?

➤ Terror: _____ Ficção: _____

➤ Romance: _____ Biografia: _____

➤ Humanas: _____ Poesia: _____

➤ Suspense: _____ Outros: _____

c) Qual tipo de livro recebeu mais votos? _____

d) E menos votos? _____

e) Qual é a sua categoria de livro preferida? _____

Efetue a divisão indicada em cada cartela:

Cartela A

$$726 \div 3 =$$

Cartela B

$$569 \div 4 =$$

Responda:

a) Em qual das cartelas a divisão é exata? _____

b) Na cartela A, qual é o quociente e qual é o resto? _____

c) Na cartela B, qual é o quociente e qual é o resto? _____

Efetue as operações no seu caderno:

a) $28.569 + 43.509 =$

c) $356 \times 25 =$

b) $54.738 - 23.659 =$

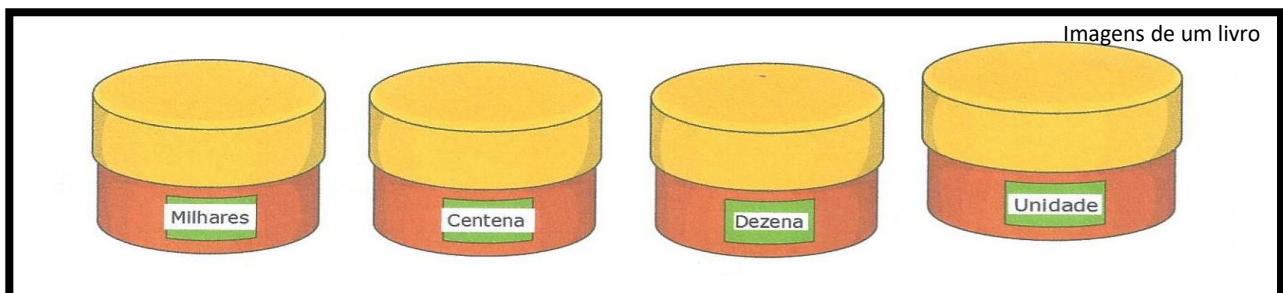
d) $5136 \div 6 =$

Resolva os problemas no seu caderno:

a) Gustavo tem 960 reais. Quer repartir essa quantia igualmente entre seus três filhos. Qual a quantia que cada um vai receber?

b) Qual é a terça parte de 786?

c) No jogo do Valor – Lugar, um jogador fala um número e outro coloca os algarismos no pote correspondente ao valor posicional desse número. Em uma jogada, o número foi : 3.456



Que algarismo será colocado no pote dos **Milhares**?

() 6 () 5 () 4 () 3

Responda ao que se pede:

a) No número 23, o valor absoluto do 3 é: _____

b) No número 639, o valor relativo do 3 é: _____

c) No número 4.358, o valor relativo do 4 é: _____

d) No número 8.609, o valor relativo do 0 é: _____



Pinte a coluna contendo o produto correspondente. Faça os cálculos no caderno.

Operação	Resultado 1	Resultado 2	Resultado 3
$366 \div 6 =$	59	60	61
$709 \times 6 =$	4.364	4.254	4.154
$804 \times 3 =$	2.412	2.421	2.422
$370 \times 5 =$	1.650	1.550	1.850
$968 \div 6 =$	151	161	171

Transforme as frações impróprias em número misto:

a) $\frac{47}{5}$

b) $\frac{87}{6}$

Escreva por extenso:

a) 208,102 _____

b) 65,31 _____

Leia com atenção essa lenda:

Mão Preta, a assustadora

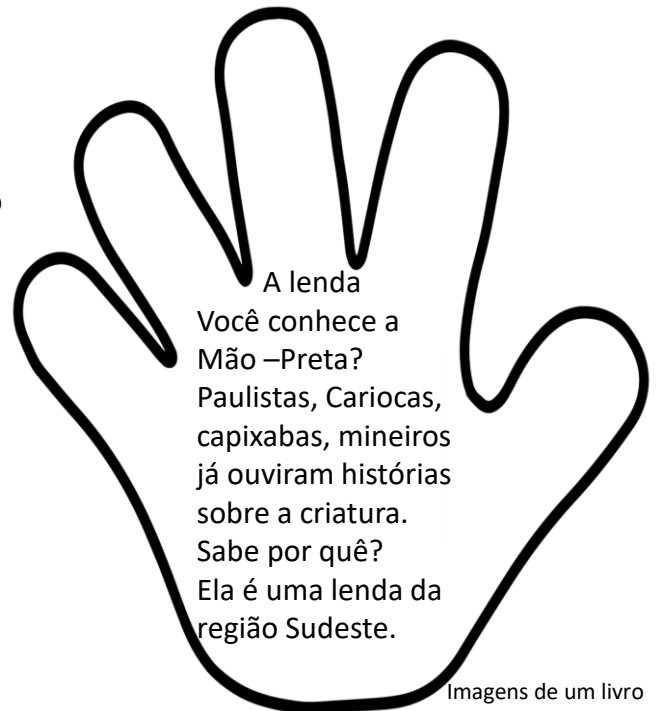
Valha-nos Deus! Que medão ! Um mão preta e peluda assusta adultos e criança. Ela anda solta pela casa. Não tem braço nem corpo. Só tem cinco dedos presos na palma que vai até o pulso.

No vaivém, a criatura trabalha só. Cozinha, lava pratos, arruma camas, limpa os banheiros, passa aspirador de pó. Faz tudo rápido e pra lá de benfeito.

Às vezes, ninguém sabe o porquê, a mãozinha perde o juízo. Quebra louça. Bate nas crianças. Rasga a roupa. Queima tevê. Dizem que ela faz justiça. Castiga só quem é mal. Será?

Dad Squaristi

O contrário de Mal é bem
O Contrário de Mau é bom.



Imagens de um livro

Agora é com você!

1) Complete com **Mal** ou **Mau**. Antes de escrever, pare e pense no contrário:

- a) A Mão- Preta ataca a turma do _____.
- b) Não há bem sempre dure nem _____ que nunca acabe.
- c) O lobo _____ matou a ovelhinha.
- d) Hoje eu acordei passando _____.
- e) Aquele sujeito é muito _____ intencionado.



2) Colore a mão de preto, para fazer sentindo a lenda.



Leia o texto abaixo:


Estrelinha Pedagógica

VERÃO

O Verão é a estação mais quente do ano, as temperaturas são altas e os dias ficam maiores do que as noites. Isso acontece porque uma parte da Terra está mais perto do Sol.

Com o calor, a água evapora e, por isso, chove mais.

É importante não esquecer de utilizar o protetor solar e tomar muitos líquidos nessa época do ano. Isso porque além de ser muito quente, os raios solares são bem fortes.



No Brasil, o verão inicia em 21 de dezembro e dura até 20 de março.

MAGALHÃES, Lana. Estações do Ano (Educação infantil) Toda matéria. Fragmento.

a) Qual é o assunto desse texto?

- () A água () A Terra. () O Sol () O Verão
-

b) Quando acontece a história?

- () Primavera () Inverno () Verão () Outono
-

c) Quando o Verão começa no Brasil?

- () 22 /12 a 20/03 () 21/06 a 23/09
() 20/03 a 21/ 06 () 23/09 a 22/12
-

Marque com um X a resposta correta:

A Palavra em que a letra “G” tem o mesmo som que a palavra CIGARRA.

- () Gaiola () Gelado () Girafa () Saguão
-

A palavra em que a letra “R” tem o mesmo som que a palavra ABELHEIRO.

- () Flor () Néctar () Operária () Rainha
-

A palavra em que a letra “C” tem o mesmo som que na palavra CAJU.

- () Abacaxi () Acerola () Cereja () Maçã
-

Leia o texto abaixo:

QUENTE DEMAIS

Os dias estavam quentes naquele verão. Rafaela não sabia mais o que fazer. O ventiladorzinho já não dava mais conta de espalhar o vento ao redor. E, ao saírem na rua, nem chapéu e guarda-chuva resolviam o calor.

-O que vamos fazer, mamãe? – perguntou a Rafaela, enquanto se abanava com uma tampa de caixa de sapato.

-Não sei, minha filha. Ah, como eu gostaria de estar na beira de uma praia agora...lá, tem a brisa do mar... [...]- suspirou a mãe [...].

Já sei! Já sei! – gritou a Rafaela.

Em seguida, disparou em direção ao seu quarto. Quando retornou à sala, a mãe nem acreditou no que viu:

-Pronto! Aqui está o meu cata-vento. Logo. Logo, ele vai catar um monte de vento para nós! – disse a Rafaela, toda faceira.

Quente demais.in 365 Belas Histórias para Sonhar. Blumenau: Blu Editora 2016 Fragmento.

Nesse texto, ao buscar o cata-vento, Rafaela quis.

- | | |
|------------------------------------------------|----------------------------------------------|
| <input type="checkbox"/> Brincar com o vento | <input type="checkbox"/> Divertir a sua mãe. |
| <input type="checkbox"/> Se refrescar do calor | <input type="checkbox"/> Se sentir na praia. |

Quando acontece essa história?

- | | | | |
|----------------------------------|---------------------------------|--------------------------------|------------------------------------|
| <input type="checkbox"/> Inverno | <input type="checkbox"/> Outono | <input type="checkbox"/> Verão | <input type="checkbox"/> Primavera |
|----------------------------------|---------------------------------|--------------------------------|------------------------------------|

Leia esse outro texto:

QUAL O MAIS FRIO: O POLO SUL OU POLO NORTE?

Há muitos anos, os dados meteorológicos que o Polo Sul é[...] mais frio que o Norte. A temperatura média no Polo Norte é de -34°C, enquanto [...] no Polo Sul, é de cerca de -48,9°C. Isso ocorre porque o Polo Norte fica entre dois oceanos e a poucos metros acima do nível do mar [...]. Já o Polo Sul fica no meio da Antártica e a 2.800metros sobre o nível do mar. [...]

Qual o mais frio: o Polo Sul ou Polo Norte? Incrível. Acesso em 25 abr.2024 Fragmento

Qual é o assunto do texto?

- | |
|-----------------------------------------------------------------|
| <input type="checkbox"/> A localização dos Polos Sul e Norte. |
| <input type="checkbox"/> As temperaturas nos Polos Sul e Norte. |
| <input type="checkbox"/> O tamanho dos oceanos. |
| <input type="checkbox"/> Os dados meteorológicos. |

